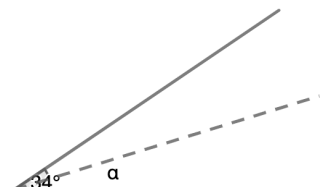
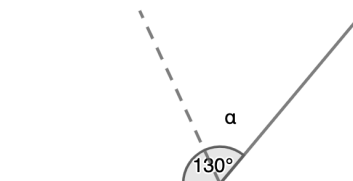
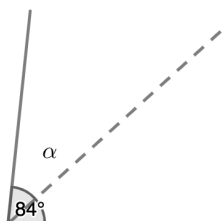


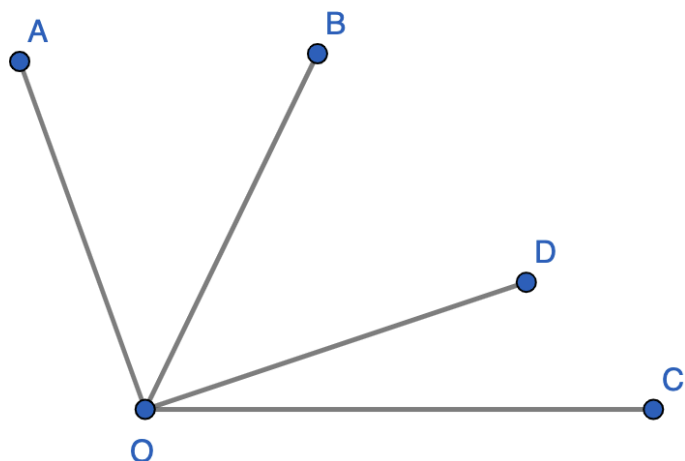
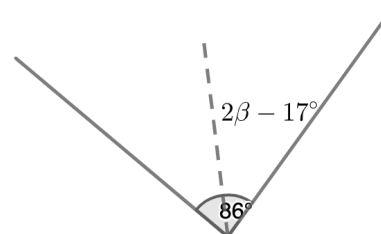
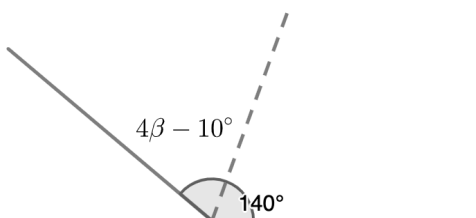
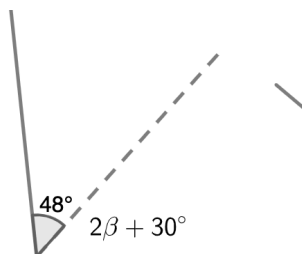


חוצה זווית - מבוא

בכל אחד מהשרטוטים הבאים הישר המקווקו הוא חוצה זווית, חשבו את α



בכל אחד מהשרטוטים הבאים הישר המקווקו הוא חוצה זווית, חשבו את β

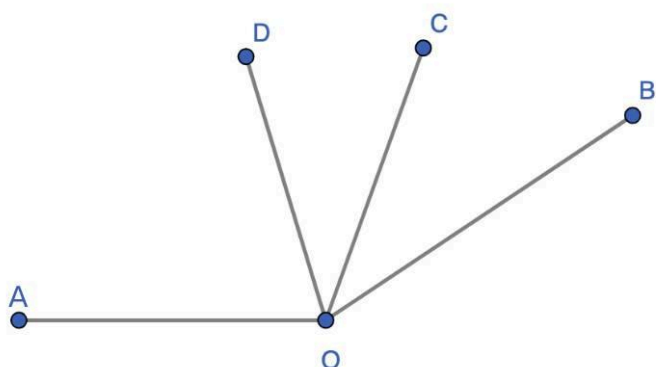


נתון BO הוא חוצה זווית $\angle AOD$

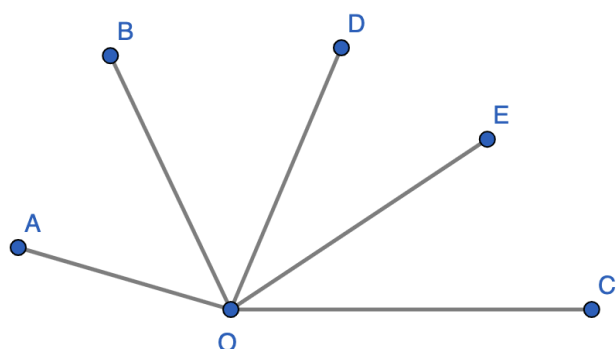
$$\angle BOD = 42^\circ$$

$$\angle AOC = 130^\circ$$

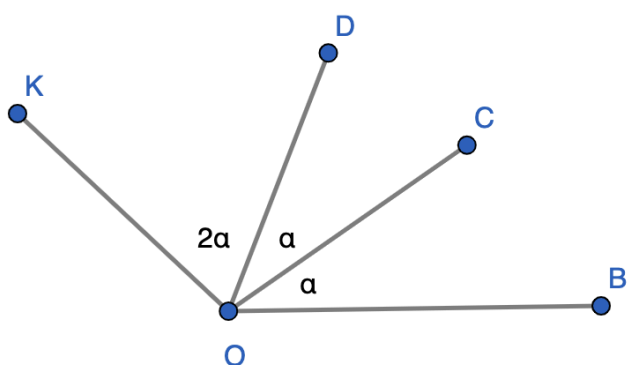
חשבו את גודלה של $\angle DOC$



הקטע OC חוצה זווית $\angle DOB$
 הקטע OD חוצה זווית $\angle AOB$
 $\angle AOB = 36^\circ$
 חשבו את גודל יתר הזוויות בשרטוט



הקטע OB חוצה זווית $\angle AOC$
 הקטע OE חוצה זווית $\angle DOC$
 $\angle DOE = 33^\circ$ $\angle AOB = 48^\circ$
 חשבו את גודל הזווית $\angle AOC$



$\angle DOB = 34^\circ$
 האם הקטע OC הוא חוצה זווית? הסבירו

חשבו את הזווית $\angle KOB = ?$

האם יש כאן חוצה זווית נוסף? הסבירו